

Exercices type portant sur les compétences de base

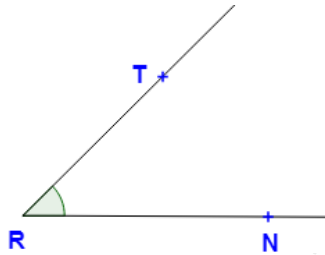
Savoir faire indispensable

Les angles en 6ème

Ces exercices sont extraits du site <https://avosmaths.fr> où ils sont interactifs (écriture avec un stylet possible) , corrigés et réinitialisables à volonté afin de pouvoir les refaire avec des données et calculs différents. Vous trouverez aussi le cours en vidéo, des contrôles, des sujets de brevet et des jeux de mathématiques pour s'entraîner au calcul mental.

Exercice 1 :

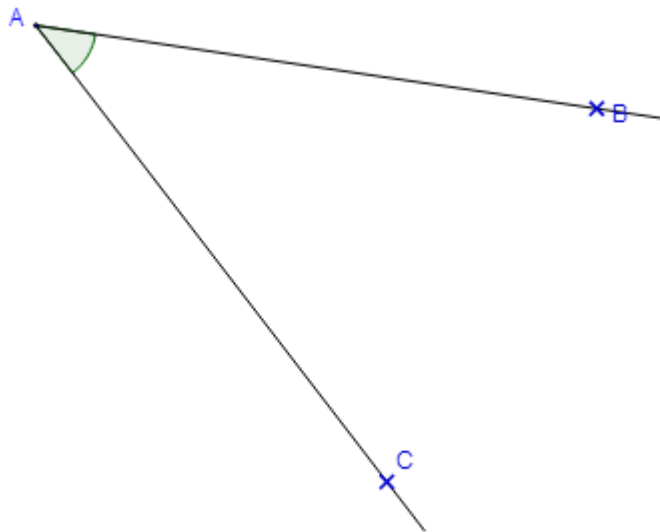
Nommer l'angle et donner sa nature :



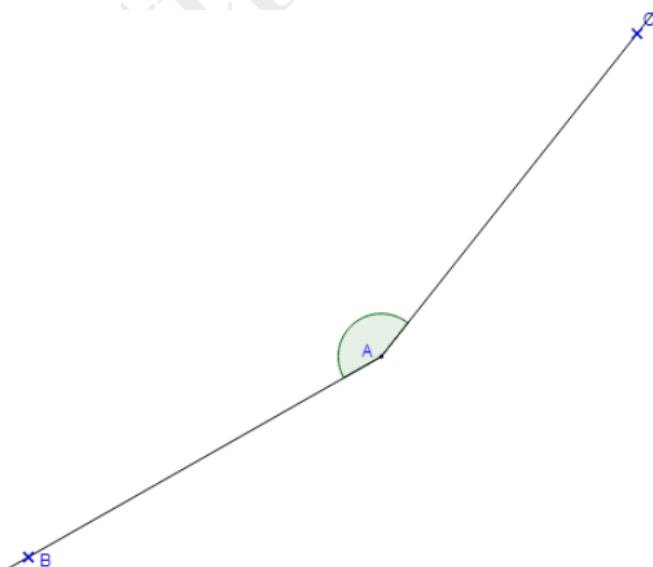
Exercice 2 :

Mesurer les angles suivantes :

a)



b)



Exercice 3 :

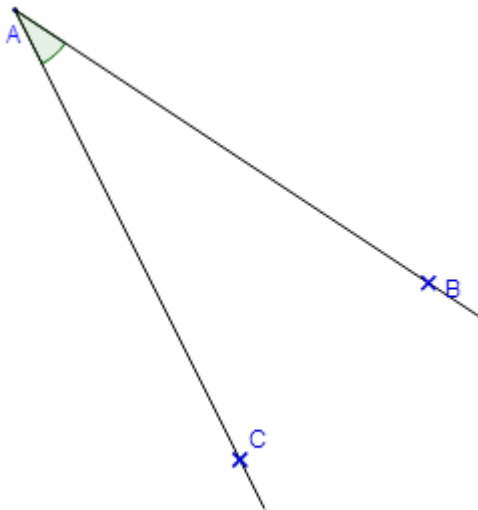
Tracer un angle \widehat{JTY} sachant qu'il mesure 96° .

\times
J

T \times

Exercice 4 :

Tracer la bissectrice de l'angle \widehat{BAC} en utilisant le rapporteur.



Exercice 5 :

Tracer la bissectrice de l'angle \widehat{BAC} sans utiliser le rapporteur.

