

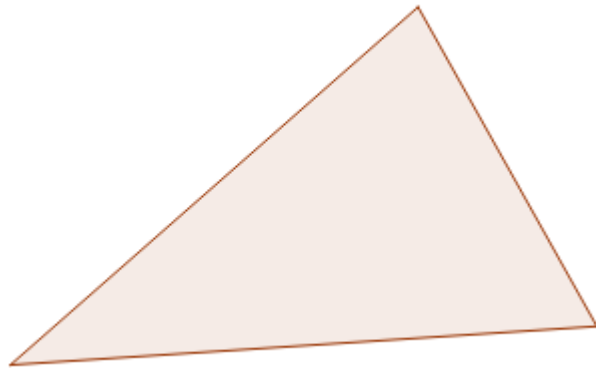
Exercices type portant sur les compétences de base Savoir faire indispensable

Cercle circonscrit et triangle rectangle en 4ème

Ces exercices sont extraits du site <https://avosmaths.fr> où ils sont interactifs (écriture avec un stylet possible) , corrigés et réinitialisables à volonté afin de pouvoir les refaire avec des données différentes. Vous trouverez aussi le cours en vidéo, des contrôles, des sujets de brevet et des jeux de mathématiques pour s'entraîner au calcul mental.

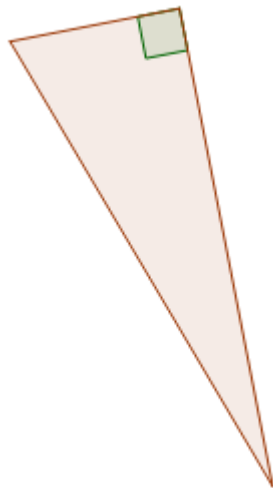
Exercice 1 :

Tracer le cercle circonscrit du triangle ci-contre




Exercice 2 :

Tracer le cercle circonscrit du triangle ci-dessous



Exercice 3 :

Construire un triangle HVZ rectangle en V tel que $HV = 3.2$ cm.



Exercice 4 :

Considérons le triangle BZY rectangle en Z.

De plus, C est le milieu de l'hypoténuse qui mesure 3.7 cm.

Quelle est la longueur du segment [CZ] ?

